

高复文综补充作业二

一、选择题（本大题共 35 小题，每小题 4 分，共 140 分。在每小题给出的四个选项中，只有一项是符合题目要求的）

土楼墙体是利用未经焙烧的沙质黏土和黏质沙土拌合而成的泥土，通过击、敲、打、拍夯筑而成。墙体底厚上窄，略向内收，墙顶出挑 3 米左右的大屋檐（如图 1）。根据图文资料，完成 1-2 题。

1. 墙顶出挑 3 米左右大屋檐的主要原因是

A. 美观 B. 防晒 C. 防雨 D. 保温

2. 下列属于土楼功能的是

①居住②防盗③防震④防风沙

A. ①②③ B. ②③④ C. ①③④ D. ①②④



图 1

闪光是炎热地区常见的一种自然现象，雷电都会伴随闪光，但寒冷地区却极为罕见。据美国国家地理杂志报道，2019 年 8 月第二个周末，距北极点约 500 公里的冰冷区域内发生了 48 次单独闪光。据此完成 3 -5 题。

3. 正常年份的北极夏季闪光极为罕见的原因最有可能是

A. 冰川融化，陆地吸热增温 B. 植被覆盖增加，空气对流减弱

C. 风力强劲，云层稀薄 D. 气温偏低，大气湿度小

4. 2019 年 8 月北极闪光频现的原因最有可能是

A. 冰川融化 B. 气温升高 C. 太阳辐射增强 D. 暖流增强

5. 在北极闪光频现时，可能出现的地理现象是

A. 北大西洋浮冰数量增加 B. 玉龙雪山雪线下降

C. 两极极光现象增加 D. 北极企鹅生存空间缩小

高考资源网

读图 2 “中国西瓜上市时间图”与“中国 2017 年西瓜年产量分布图”，完成 6-8 题。

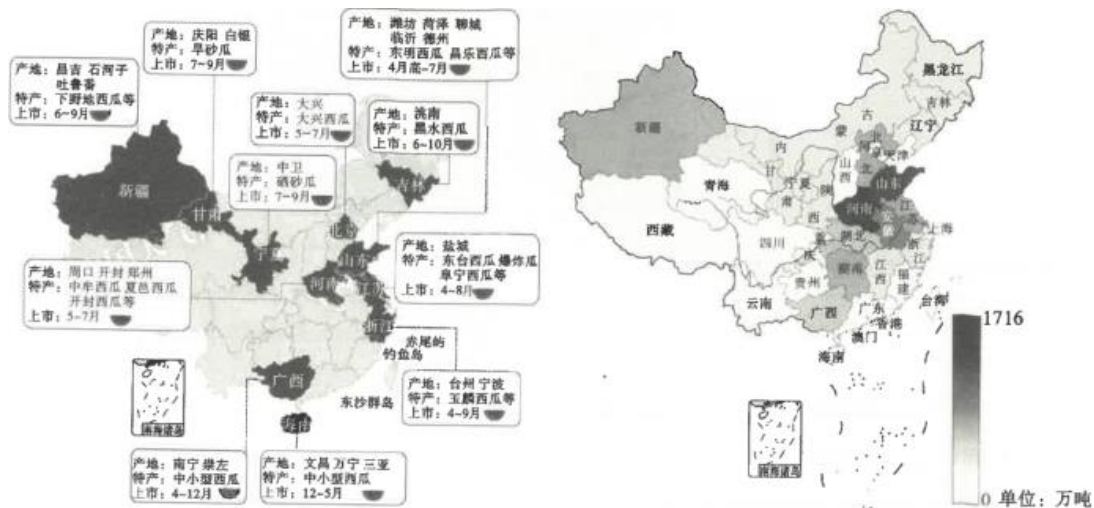


图 2

6. 海南西瓜上市时间与其他区域不同的主要原因是

- A. 气候 B. 市场 C. 土壤 D. 技术

7 宁夏硒砂瓜品质好但年产量偏低的原因是

- A. 农业劳动力短缺 B. 种植技术落后 C. 复种指数低 D, 种植面积小

8. 新疆西瓜产量极高, 为保障瓜农收益, 下列措施不可行的是

- A. 扩大销售渠道 B. 增开运输专线 C. 加大种植面积 D. 发展制种产业

霜冻线是指地表温度为 0°C 的一条曲线, 是区分可能出现霜冻区域的标志。读图 3 “全国降水量预报图 (10 月 9 日 20 时—10 日 20 时)”, 完成 9—11 题。

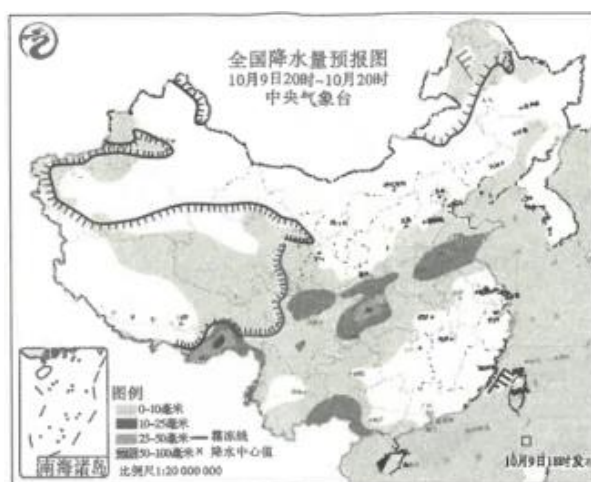


图 3

9. 图中数条霜冻线分布的共同影响因素是

- A. 纬度高低 B. 海陆位置 C. 地形影响 D. 冷锋运动

10. 下列对于我国霜冻线的描述, 叙述正确的是

- A. 霜冻线与 0°C 等温线重合 B. 海陆温差较大时霜冻线南移速度较快

C.霜冻线以南地区即霜冻区 D. 同纬度沿海地区霜冻线出现时间较早

11. 对于 10 月 9 日 20 时—10 日 20 时全国天气状况, 预报错误的是

- A. 受冷空气影响, 东北地区将有 4-5 级偏北风, 出现寒潮天气
- B. 西藏东南部需防范洪涝、泥石流等自然灾害
- C. 台湾海峡风浪较大
- D. 青海东部和南部局部地区出现降雪

12. 2019 年 8 月 5 日上午, 离岸人民币兑美元汇率跌破“7”关口, 报 7.0438。随后, 在岸人民币兑美元也跌 破“7”。人民币汇率变动对我国经济的影响可能有

- ①扩大出口商品价格优势—推动出口贸易发展—增创外汇
- ②人民币实际价值减少—降低人民币国际购买力—增加国内储蓄
- ③美元实际价值增加—优化美国对外投资结构—增强投资优势
- ④提升进口商品人民币价格—增加企业进口成本—促进企业自身转型升级

A.①③ B.①④ C.②③ D.③④

13. 2019 中国国际智能产业博览会 8 月 26 日在重庆召开。本届智博会坚持“智能化: 为经济赋能, 为生活添彩”主题, 有来自近 60 个国家和地区的代表参会, 参会嘉宾包括国际组织负责人、国外知名学者和 60 多位世界 500 强企业高管等, 同时有 843 家国内外企业参展。我国举办国际智能产博会

- ①践行创新发展理念, 为筑牢现代化经济体系奠定坚实基础
- ②表明我国深度融入世界经济, 发展更高层次的开放型经济体系
- ③有利于培育经济增长新动能, 推动经济高质量发展
- ④表明我国坚持互利共赢的原则, 形成了内外联动的开放格局

A.①② B.①③ C.②③ D.③④

2019 年是中华人民共和国成立 70 周年。据此回答 14—17 题。

14. 70 年来, 全国各族人民在中国共产党的坚强领导下同心同德、艰苦奋斗, 取得了令世界刮目相看的伟大成就。这充分体现了

- ①中国特色政党制度具有强大的生命力和显著的优越性
- ②中国共产党领导是中国特色社会主义最本质的特征
- ③中国共产党是中国工人阶级的先锋队, 是中国人民和中华民族的先锋队
- ④坚持中国共产党的领导, 是社会主义民主政治的独特优势

A.①② B.①③ C.②③ D.③④

高考资源网

15. 70 年风雨兼程，70 年砥砺前行。广大人民群众在党的坚强领导下不懈奋斗，为实现中华民族伟大复兴的 中国梦汇聚了磅礴的力量。中国的昨天已经写在人类的史册上，中国的今天正在亿万人民手中创造，中国 的明天必将更加美好。从辩证法的角度看

- ①事物的相互影响和相互作用构成了事物的变化和发展
- ②人民群众是推动社会历史发展的决定力量
- ③事物发展的道路是光明的，要坚信未来会更加美好
- ④量变是质变的前提和必要准备，要重视量的积累

A.①③B.①④C. ②③D.②④

16. 国庆阅兵式上，首次设立维和部队方队，立即引起国际社会关注。维和部队方队，代表的是千千万万为了 世界和平与安全，奉献青春与热血的中国军人，中国军队一如既往坚定支持联合国维和事业，用坚毅与奉 献书写维护和平的大国担当，用行动与实践推动构建人类命运共同体。这一举措

- ①说明中国在维护世界和平与安全上发挥着引领作用
- ②表明中国坚持并弘扬联合国宪章的宗旨和原则
- ③体现了中国坚定维护国家利益和肩负国际责任的统一
- ④目的是向世界展示中国强大的军事力量

A.①②B.①③C.②③D.③④

17. 国庆阅兵活动每每都是世界读懂中国的重要窗口，而今年的国庆庆典更是打开了一扇大大的瞪望之窗。从 国庆的系列活动中，有人看到了自信是弥足珍贵的复兴之魂，有人读出了和平是掷地有声的大国之诺，有 人看到人民是坚如磐石的执政根基，也有人臆测大国崛起对世界秩序的挑战。上述材料表明

- ①对同一确定对象真理性的认识不止一个 ②真理与谬误往往相伴而行，相互包含
- ③认识具有主体差异性 ④客观事物其本质的暴露和展现有一个过程

A.①②B.①④C.②③D.③④

18. 下列每个选项中对应的两句名言蕴含的哲理一致的是

- ①祸兮福所倚，福兮祸所伏一于安思危，于治忧乱
- ②行之力则知愈进，知之深则行愈达一大鹏之动非一羽之轻，骐骥之速非一足之力
- ③知者善谋，不如当时一明者因时而变，知者随事而制
- ④为有牺牲多壮志，敢叫日月换新天一周邦虽旧，其命维新

A.①②B.①③ C.③④D.②④

19. 北京时间 2019 年 10 月 7 日，诺贝尔生理学或医学奖公布，授予威廉·凯林等三位科学家，以表彰他们发现了细胞如何感知以及对氧气供应的适应性。早在 1931 年，德国生理学家奥托·沃伯格就凭借对细胞中线粒体转换氧气的酶促过程的研究获奖，今年这三位科学家，正是针对这一过程进行了更深入、具体的研究。这项揭示生物氧气感知通路的发现，不仅在基础科学上有重要价值，还有望带来多项创新疗法。上述材料蕴含的认识论原理有

- ①认识对实践具有重要的反作用
- ②认识的发展过程是一个螺旋式上升的过程
- ③认识的发展过程是一个不断推翻原有认识的过程
- ④追求真理永无止境，人能在实践中不断接近真理

A.①② B.①④ C.②③ D.③④

20. 中国实行国家公园体制，目的是保持自然生态系统的原真性和完整性，保护生物多样性，保护生态安全屏障，给子孙后代留下珍贵的自然资产。这告诉我们

- ①要根据人们的实际需要建立新的联系 ②要树立全局观念实现整体的最优目标
- ③要掌握系统优化方法，着眼于事物的整体性 ④要重部分的作用，用局部发展推动整体发展

A.①② B.②③ C.①④ D.③④

21. 优化营商环境是党中央、国务院在新形势下作出的重大决策部署，是促进高质量发展的重要举措。北京市、上海市聚焦市场主体反映的突出问题，对标国际先进，推出大量改革举措，形成了一批典型经验做法。经国务院批准，将在全国推广京沪两地优化营商环境改革举措。材料表明

- ①意识活动具有目的性
- ②认识与实践是具体的历史的统一
- ③矛盾普遍性寓于特殊性之中，并通过特殊性表现出来
- ④要坚持从普遍到特殊再到普遍的工作方法

A.①③ B.①④ C.②③ D.③④

22. “小康不小康，关键看老乡”“全面建成小康社会，没有老区的全面小康，特别是没有老区贫困人口脱贫致富，那是不完整的”。正如总书记所说，近年来，老区建设虽然取得了很大成绩，但是放在全国范围内横向比较还有不小差距。老少边穷地区尤其是集中连片贫困地区能否脱贫，直接决定了我们 2020 年实现全面建成小康社会目标能不能如期实现。这一论断给我们的方法论启示有

高考资源网

①立足部分，用部分的发展推动整体的发展 ②用一分为二的观点看问题

③坚持“两点论”和“重点论”的统一 ④把握矛盾的主要方面，分清主流与支流

A.①② B.①④ C.②③ D.③④

23. 他隐姓埋名几十年，为我国核潜艇事业奉献了毕生精力，为核潜艇研制和跨越式发展作出了卓越贡献，他就是核潜艇的总设计师黄旭华。几十年如一日坚持的背后，是厚植于他内心的拳拳报国情。2019年9月29日，他被授予“共和国勋章”。黄旭华的事迹说明

①价值观是人生的重要向导 ②他被授予“共和国勋章”，从而实现了其人生价值

③人只有在个人与社会的统一中才能实现价值 ④人既是价值的创造者也是价值的享受者 A.

①② B.①④ C.②③ D.③④

24. 商王室成员墓葬出土的青铜礼器绝大多数都是含锡量较高的青铜，而在同一遗址其他等级较低的贵族墓葬，以及其他地区墓葬出土的青铜礼器却大多是低锡的青铜甚至纯铜。这反映了

A. 各地青铜器制作水平存在差异 B. 商朝对锡矿资源形成绝对垄断

C. 商朝礼乐制度渗透到生产领域 D. 商朝对青铜工业实行严格控制

25. 秦王朝的基本政治精神是以法治天下，但也需要学者来提供礼仪和文化方面的协助，秦朝初年，曾设博士七十人，其中大部分均为儒生。由此说明

A. 儒法两家思想上存在一定相通性 B. 秦朝时期儒生具有较高政治地位

C. 秦朝建立初期并不排斥儒家思想 D. 儒家的主要功能是树立礼仪规范

26. 自汉朝以来，中央设置的监察区，最终往往转化为地方行政区，州、道、路、省莫不如此，中央派遣到地方的监察官，最终往往也转化为地方最高行政长官，这体现了

A. 中央与地方矛盾尖锐 B. 中枢机构的适时调整

C. 行政效率的实际需要 D. 中央集权持续性强化

27. 明清时期，中国人口快速增长，江南地区的农村出现了一定程度的人口过剩，人均耕地面积越来越小，以至于所产粮食不足以供应当地人口的食用。这一现象使该区域

A. 陷人民不聊生状态 B. 市镇经济发展壮大

C. 对外输出大量人口 D. 大力发展对外贸易

28. 鸦片战争前，包世臣在《齐民四术》中写道：“小民计工受值皆以钱，而商贾转输百货则以银。其卖于市也，又科银价以定钱数，是故银少则价高，银价高则物值昂。又民户完赋亦以钱折，银价高则折钱多，小民重困。”由材料可以推断鸦片战争前

A. 中外民族矛盾渐趋加深 B. 国内阶级矛盾有所上升

高考资源网

C. 商品经济发展极其迅速 D. 白银大量流入造成钱荒

29. 1895 年《马关条约》签订后，两江总督张之洞感到，中国的工业会受到极大的冲击。为此他在南京约见了张謇，并委派张謇担任“总理通海一带商务”，发展工商业，以抵制日本的经济侵略。由此可以看出

A. 甲午战后阶级矛盾弱化 B. 民族资本主义初步发展

C. 洋务派向维新派的转变 D. 民族主义渗入经济领域

30. 1943 年 1 月，中美、中英在重庆签订新约，废除领事裁判权，废除军舰自由进入中国通商口岸，废除片面最惠国待遇等。中国在这一时间能够废除以上不平等条约的主要原因是 A. 国际局势转变下的新需要 B. 中国综合国力的极大提升

C. 国民政府长期的外交努力 D. 不平等条约已经名存实亡

31. 1949 年 12 月，中央人民政府教育部在北京召开第一次全国教育工作会议，根据《共同纲领》的规定，确定教育必须为国家建设服务，学校必须向工农开门的总方针。这一总方针的制定

A. 符合新中国初期的实际需要 B. 有利于计划经济的逐步开展

C. 有利于科教兴国战略的实施 D. 延缓了建国初期的经济恢复

32. 公元前 594 年，梭伦出任雅典第一执政官，针对当时谷物价格过高的情况，通过限制谷物出口，鼓励谷物进口，从而降低了谷价。这一措施产生的重要影响是

A. 激化了平民与贵族的矛盾 B. 推动雅典民主政治的确立

C. 壮大了雅典民主派的力量 D. 导致了雅典农业走向衰落

33. 诞生于佛罗伦萨的马基雅维利（1469 - 1527）的政治思想代表作《君主论》，探讨了有关君主国的若干问题，诸如君主的性格，君主国的分类，怎样获得与维持，如何解放意大利等。

《君主论》的问世反映了

A. 启蒙运动的领域不断拓展 B. 意大利消除了宗教的束缚

C. 意大利试图摆脱君主专制 D. 资本主义发展的政治诉求

34. 1926 年 4 月，苏联最高领导人在报告中把新经济政策分成两个时期：1921- 1925 年底为第一个时期，主要任务是在扩大商品流转的条件下，以发展农业为中心建立国民经济基础；而从 1926 年开始为第二个时期，……最重要、最突出的一点，就是重心已经转移到工业方面了，整个国民经济的发展主要依靠工业的直接扩张了。材料表明

A. 斯大林逐步废除新经济政策 B. 新经济政策不符合时代需要

C. 列宁对新经济政策重新规划 D. 苏联已完成农业集体化改革

35. 2000 年 6 月，非洲、加勒比海和太平洋地区国家集团的 77 个成员国和 15 个欧盟国家于贝宁首都科托努签订《科托努协定》，协定规定包括：欧盟逐步取消对非加太地区国家提供的单向贸易优惠政策，代之以向 自由贸易过渡，双方最终建立自由贸易区，完成与世贸规则的接轨。该协定的签订反映了

- A. 欧盟国家的经济实力下滑严重 B. 发展中国家经济水平有所上升
C. 发达与发展中国家的矛盾尖锐 D. 两极格局下的多极化趋势加强

二、非选择题（共 160 分，第 36~ 42 题为必考题，每个试题考生都必须作答。第 43~47 题为选考题，考生根据要求作答。把答案填写在答题卡上相应的位置，在试题卷上作答无效。）

（一）必考题（共 7 小题，共 135 分）

36. (24 分) 阅读图文材料，完成下列要求。

青藏高原城镇体系不健全，城镇辐射带动能力弱，部分居民保持着城内居住城外耕作的传统生活方式。自然条件、第二、三产业发展及各行政单元建制镇等是青藏高原城镇形成的重要因素。“中心地理论” 阐述了区域内城市数量、规模、等级之间的关系，对于青藏高原城镇体系演变具有参考意义。图 4 示意 “ 1990-2015 年青藏高原城镇人口规模的空间格局及动态演变”。

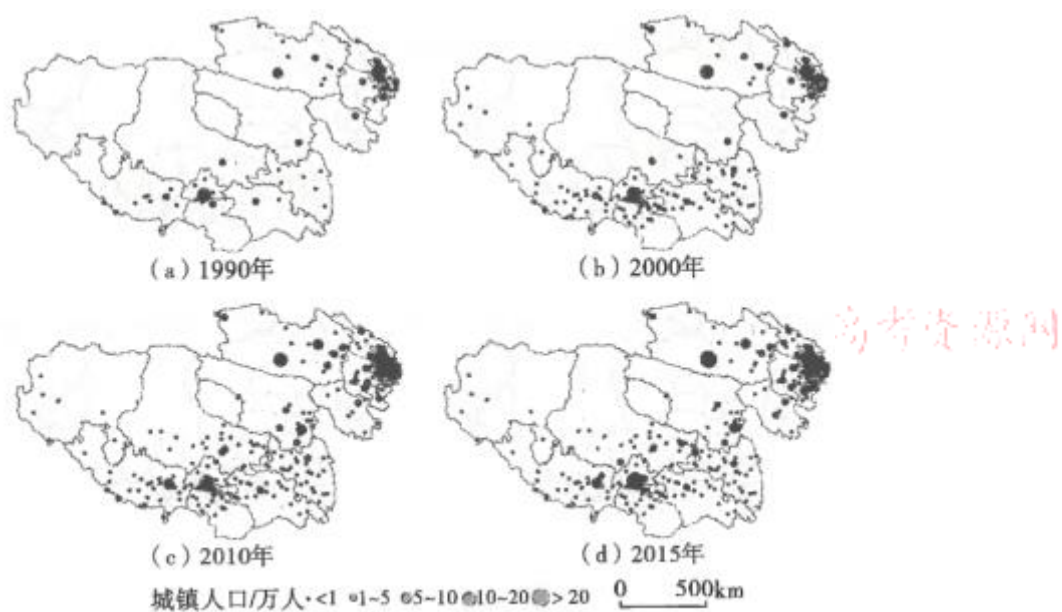


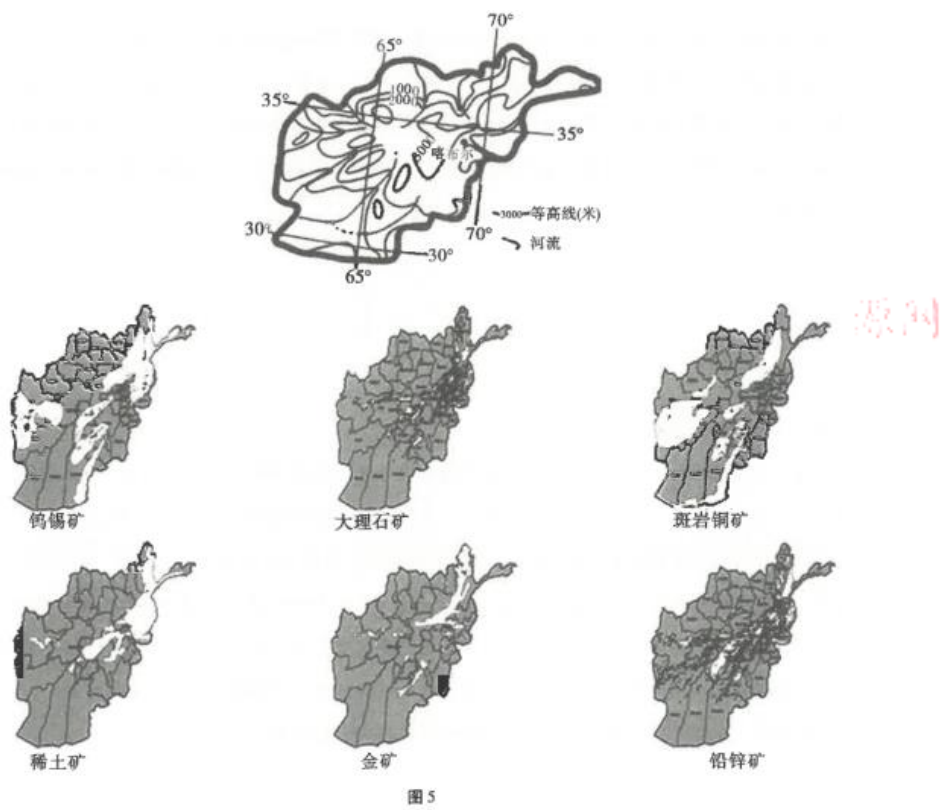
图 4

(1)简述 1990 - 2015 年青藏高原城镇数量变化特征。(6 分)

- (2)依据“中心地理论” 阐述 2015 年青藏高原城镇空间格局特征。(6 分)
- (3) 试分析 2000-2005 年青海省城镇数量从 52 个剧增至 126 个的原因。(6 分)
- (4) 请为青藏高原不同等级城镇协调发展提出合理性建议。(6 分)

37. (22 分) 阅读图文材料，完成下列要求。

阿富汗是亚洲中部内陆国家，是全球最落后国家之一。历经三十多年战乱，经济破坏殆尽，2001 年塔 利班政权崩溃时，战争摧毁了阿富汗 80% 以上的基础设施。阿富汗矿产丰富，是经济发展的重要资源，但 因种种原因，迄今一直没有进行过全面的勘探和开发。图 5 为阿富汗等高线图及部分矿产分布图（浅色部 分即矿产）。



(1)据材料分析阿富汗矿产开采需要克服的不利自然条件。(6分)

(2)请从社会经济因素方面评价阿富汗矿业投资环境。(8分)

(3)据材料推测阿富汗岩层断裂带走向并说明理由。(8分)

38.(12分) 阅读材料，回答问题。

近期，香港正面临回归以来最严峻局面，香港反对派和一些激进势力继续以“反修例”为幌子进行各种激进抗争活动，暴力化程度不断升级，社会波及面越来越广，已经严重破坏了香港繁荣稳定的大局，严重挑战了香港法治和社会秩序，严重威胁到香港市民的生命财产安全，也严重触碰了“一国两制”的原则底线。法治是香港人引以为傲的核心价值，是香港良好的营商环境的基础，是香港保持繁荣稳定的重要基石。法治的支柱一旦动摇，香港的繁荣稳定亦将不保。解决当前香港问题，必须在维护以宪法和基本法为基础的特别行政区宪制秩序上深化认识，凝聚共识，形成全社会维护法治，守护家国的坚强力量。

结合材料，运用《政治生活》有关知识分析维护以宪法和基本法为基础的特别行政区宪制秩序的重要性。(12分)

39.(10分) 阅读材料，回答问题。

“平凡孕育着伟大”，新中国巨大成就的背后，是千千万万普通劳动者的辛勤付出。在北京展览馆举行的庆祝中华人民共和国成立70周年大型成就展上，新中国第一位女拖拉机手、在冰天雪地中参加石油会战的工人、创造了绿色奇迹的塞罕坝林场职工等最普通的劳动者，成为当之无愧的“主角”，吸引并感染着每一位参观者。他们在平凡的岗位上创造不平凡成就的动人故事，成为新中国70年奋斗历程的最佳注脚。一个国家需要冲锋陷阵、功勋卓著的英雄，也需要默默付出、恪尽职守的普通劳动者。兢兢业业、无私奉献，则是他们共同的精神底色。用好这笔宝贵的精神财富，中国的明天必将更加美好。

结合材料，运用矛盾的基本属性的知识分析平凡与伟大的关系。(10分)

40.(30分) 阅读材料，回答下列问题。

北京大兴国际机场，是建设在北京市大兴区与河北省廊坊市广阳区之间的超大型国际航空综合交通枢纽。这个总投资额高达800亿元人民币，世界上施工技术难度最高的航站楼在不到5年的时间里就完成预定的建设任务，并顺利投入运营。北京新机场最早规划于2000年，当

时北京首都国际机场尚能满足需求，2010年后，首都机场客流量迅速上升，新机场的建设已经迫在眉睫。大兴国际机场曾有3处选址，最终选址确定为大兴区与廊坊市广阳区交界处，原因在于此处可有效满足周边机场的需求，避免形成资源重复配置。2019年9月25日，北京大兴国际机场正式投入运营。大兴国际机场投入运行后，可以为北京市区、雄安新区、河北的环京区域和天津的武清、宝坻等区域的旅客流、货物流提供更加方便快捷的选择。未来北京市航空旅客吞吐量将突破2.5亿人次，带动人流、物流、资金流、信息流等生产要素高效聚集，为京津冀区域协同发展提供新动力。同时，北京大兴国际机场建成投运，也将提升我国民航国际竞争力、更好服务京津冀乃至全国的对外开放。

(1)结合材料，说明大兴国际机场建成对推动区域经济高质量发展的意义。(14分)

(2)结合材料，分析大兴国际机场建造过程体现的唯物论原理。(12分)

(3)大兴国际机场作为一项精品工程，彰显了宝贵的工匠精神。某班学习园地“如何学习大兴国际机场 匠人精神”栏目征稿，请列举两个写作要点。(4分)

41. (25分) 阅读材料，完成下列要求。

材料一在明末的西学东渐中，来华的那稣会传教士利玛窦占据着核心地位。此人于1583年进入广东，通过摸索，制定了一套颇具示范性的、适应中国社会文化的传教策略，并因此而使得西学在中国的传播成为可能。同时，利玛窦留下了一系列的科学著作，其中有在明末一刻再刻的《山海輿地全图》，更有中外学者交相称赞的《几何原本》(与徐光启合译)。在科学的传播方面，西洋历法是利氏等人赖以在中国立足的重要工具，借助于这些传教士而得以传播的西学，可以说这是一次全方位的、和平平等的西学东渐。

——袁行霈《中华文明史》

材料二19世纪中叶前后开始，西学再度开始进入中国，并且其速度之忽、力度之烈、影响之巨，在中华文化对外交往史上，都是空前的。明末清初，传教士是中西文化之间的唯一媒介。而这一次，政府官员开始出使、考查，翻译机构的设立促使大量西学书籍的出版，新式学堂聘用大量中外籍教员，并且开始派遣留学生。另外，这一时期传入的西学，举凡近代西方的工程技术、科学理论、民主思想、政治制度、社会风俗、宗教信仰，……总之，近代西方资本主义文明的所有组成成分，统统展示在中国人面前，并且从物质文化—制度文化—心态文化的不同层次全面地冲击着中国传统文化的物质外壳与精神内核。

——冯天渝《中华文化史》

(1)根据材料并结合所学知识，指出两次西学东渐的区别。(9分)

- (2) 根据材料并结合所学知识，第二次西学东渐对当时的中国产生了怎样的影响？(10 分)
- (3)根据材料并结合所学知识，简析当今西学东传的过程中应当注意的问题。(6 分)

42.(12 分) 阅读材料，完成下列要求。

材料

塞缪尔·亨廷顿将文明的交流划分的三个时期

时间	文明的交流
公元 1500 年以前	遭遇
公元 1500 年-19 世纪末	冲击
19 世纪末到 20 世纪期间	相互作用

根据材料并结合所学知识，自拟论题，对塞缪尔·亨廷顿的观点加以说明。(12 分) (要求：观点明确，史论结合，条理清晰)

(二) 选考题 (共 5 小题，共 25 分) 请考生在第 43、 44 两道地理题中任选一题作答；在第 45、 46、 47 三道历史题中任选一题作答。如果多 做，则按所做的第一题计分。作答时用 2B 铅笔在答题卡上把所选题目的题号涂黑。

43.(10 分) 【地理一选修 3：旅游地理】

旅游纪念品即游客在旅游过程中购买的精巧便携、富有地域特色和民族特色、让人铭记于心的工艺品 礼品 (如图 6)。当前我国旅游业快速发展，但旅游纪念品的发展却相对落后和缓慢。一些商家因经济利 益驱使随意照搬和复制别人商品和销售模式，导致部分民俗旅游产品被机械地随意庸俗化，很多优秀民间 艺人艺术大量流失。



图 6

分析优秀旅游纪念品对游客的意义并指出我国旅游纪念品发展面临的问题。(10 分)

44. (10 分)【地理—选修 6：环境保护】

一直以来，麒麟区寥廓南、北路的柳树是曲靖城一道独特的风景，但每年春天，漫天飞舞的柳絮也给周边的市民带来了不少烦恼（如图 7）。



图 7

试分析柳絮飘飞对市民产生的影响及解决对策。(10 分)

45. (15 分)【历史—选修 1：历史上重大改革回眸】

高考资源网

材料明朝废行中书省后的三司体制使省一级行政、司法、军事三个系统各自独立，难以形成与中央抗衡的力量。但同时地方的稳定是以牺牲行政效率为代价的。地方上缺乏一个强有力的权威，遇事各个系统之间难以协调，容易造成互相推诿，拖延不决。洪熙元年（1425 年）明朝开始设置巡抚，主要负责巡视地方、抚安军民、提督军务。巡抚在沟通中央与地方、加强行政效能方面起到了积极作用，因此巡抚的制度化进程较快，制度化程度也较高。明后期虽然巡抚已具有地方官员的某些特征，但在制度形式上，他们仍是中央官，是一种差遣。但巡抚在清代最终完成地方官化，没有摆脱监察官外化为行政官员的历史轮回。

——吴宗国《中国古代官僚政治制度研究》

(1)根据材料并结合所学知识,分析明朝设置的巡抚具有哪些特点?(9分)

(2)根据材料并结合所学知识,概括明朝设置巡抚的影响。(6分)

46.(15分)【历史一选修3:20世纪的战争与和平】

材料二战结束后,南北朝鲜分裂成了两个制度不同的国家。南北朝鲜分裂,是第二次世界大战结束时,美军和苏军在朝鲜以北纬三十八度线为界分别接受日军投降的结果。1950年6月25日,朝鲜战争爆发。第三天,美国宣布武装援助南朝鲜,直接干涉朝鲜内政。同时,令其第七舰队开入台湾海峡,插足中国的领土台湾。10月19日中国人民志愿军首批部队在司令员彭德怀的率领下,跨过鸭绿江。在这个过程中,中国国内部队作为志愿军的后备力量轮番入朝,志愿军空军也得到苏联支援开始出战,后勤运输保障也得到加强。在这种情况下,1951年7月10日,中华人民共和国和朝鲜方面与联合国军的美国代表开始停战谈判,经过多次谈判后,在1953年7月27日签署《朝鲜停战协定》。

——吴于廑、齐世荣《世界史·现代史编》

(1)根据材料并结合所学知识,概括朝鲜半岛爆发战争的时代背景。(6分)

(2)根据材料并结合所学知识,分析这场战争所产生的影响。(9分)

47.(15分)【历史一选修4:中外历史人物评说】

材料卢作孚(1893-1952年)著名的爱国实业家、教育家、社会活动家。民国时期,乡村问题在中国知识分子中引起广泛关注,卢作孚1927年出任重庆北碚区峡防团务局局长,开始在当地探索乡村建设,提出“乡村现代化”主张,通过招商引资将众多工厂企业引入北碚,卢作孚希望通过北碚的“乡村现代化”建设,成为“中华民国现代化的参考”,最终实现“国家的现代化”。同时,卢作孚白手起家,创办了著名的民生实业公司。在他领导下民生公司由弱到强,1935年挤垮了美国捷江公司和英国轮船公司,将列强势力逐出了川江。1938年秋,武汉失守,大量后撤重庆的人员和迁川工厂物资近10万吨屯集宜昌无法运走,不断遭到日机轰炸。卢作孚亲自指挥,经过40天的奋战,终于在宜昌失陷前,将全部屯集的人员和物资抢运到了四川。这次抢运行动被誉为中国的“敦刻尔克”撤退。1945年卢作孚赴美参加国际通商会议,提出维护我国航运利益的三条议案,获得大会的一致通过。

——摘编自朱英《中国近代史十五讲》

(1)根据材料并结合所学知识,分析卢作孚提出“乡村现代化”的时代背景。(6分)

(2) 根据材料并结合所学知识，概括卢作孚从事以上活动的主要意义。(9 分)

高考资源网