

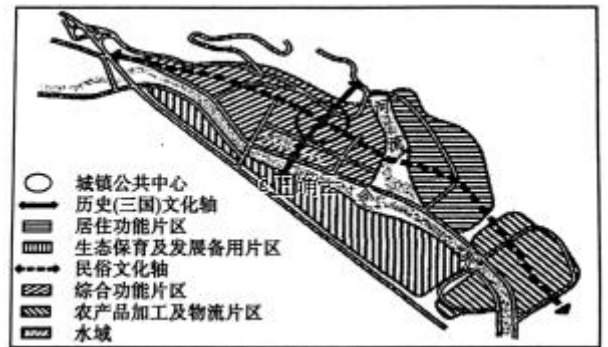
文科综合能力测试

注意事项:

1. 答卷前, 考生务必将自己的姓名、准考证号填写在答题卡上。
2. 回答选择题时, 选出每小题答案后, 用铅笔把答题卡上对应题目的答案标号涂黑。如需改动, 用橡皮擦干净后, 再选涂其它答案标号。
3. 考试结束后, 将本试卷和答题卡一并交回。

一、选择题: 本题共 35 小题, 每小题 4 分, 共 140 分。在每小题给出的四个选项中, 只有一项是符合题目要求的。

郭嘉镇位于甘肃省泰安县西北部, 交通便利, 山多川多, 境内郭嘉河为其最大河流。该镇总人口不足 5 万人 (2017 年统计数据), 林果产业为其支柱产业。其镇名相传起源于三国时期, 曹操为纪念手下谋士郭嘉而将此地取其名, 后一直沿用至今。右图示意郭嘉镇主镇区总体规划 (2010-2020 年)。据此完成 1-3 题。



1. 影响郭嘉镇主要镇区布局的主导因素是

- A. 地形 B. 交通 C. 河流 D. 资源

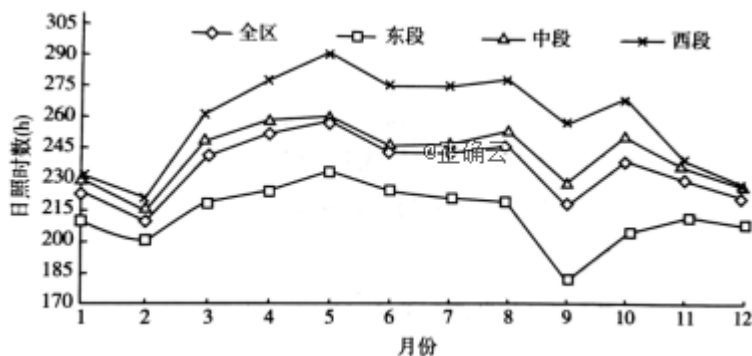
2. 该镇区

- A. 生态保育及发展备用片区主要是耕地良田 B. 综合功能片区中不会有住宅分布
C. 住宅功能片区以高层建筑为主 D. 农产品加工及物流片区交通便捷

3. 该镇主镇区经济发展的方向是

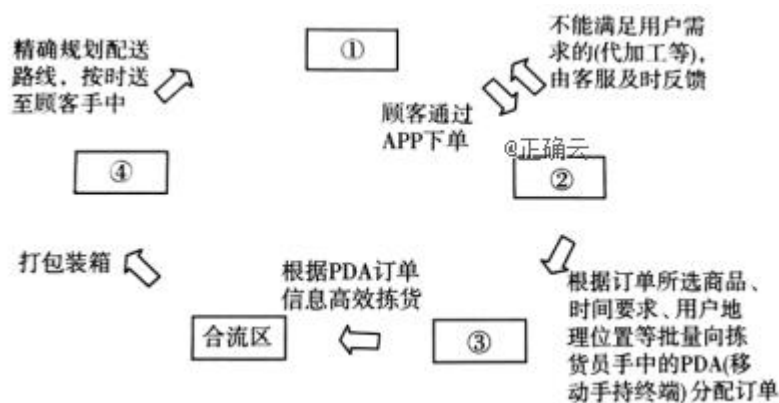
- A. 大力发展内河运输
B. 积极承接产业转移, 全力发展劳动密集型产业
C. 以历史和民俗文化为轴, 以旅游业为支柱产业
D. 立足地方特色, 农、工、商、贸、旅游综合发展

下图为祁连山各段 1961-2014 年月均日照时数变化曲线图。据此完成 4-6 题。




4. 祁连山日照时数
- A. 各月均低于 305 小时
B. 中段变化幅度最小
C. 2-5 月先波动下降后迅速上升
D. 西段低于东段和中段
5. 9 月份影响祁连山东段的风主要为
- A. 东南风
B. 西北风
C. 西南风
D. 东北风
6. 祁连山西段月均日照时数最高月，该地
- A. 白天时间最长
B. 沙尘天气少发
C. 植被覆盖率最高
D. 正午太阳高度角较大

某生鲜企业作为对线下超市完全重构的新零售业态，在全国不同地区建有大量生产基地。消费者可到店购买，也可以在 APP 上下单。该生鲜企业门店与传统生鲜超市相比，最大的特点是货物价格较低。下图为该生鲜企业自动化配送流程图（图中序号分别代表数据后台、顾客、配送员、拣货员）。据此完成 7-9 题。



7. 流程图中代表数据后台、顾客、配送员、拣货员的序号依次是
- A. ①②③④
B. ③④①②
C. ②①④③
D. ④③①②
8. 该生鲜企业若在河南开店，最应该先入驻
- A. 省会城市
B. 一般地级市
C. 县城
D. 乡镇
9. 该企业生鲜产品价格较低的主要原因是
- A. 产品运输速度快
B. 生产基地直接供货
C. 服务质量好
D. 产品质量高

拥有 30 万人口的某国，在世界上一直是环保界的先行者。下图是该国在步行街铺设的加热管道景观图。该工程是将地壳中流出来的水（水温约 30℃）输送到街道内的塑料管道中，融化路面积雪。据此完成 10-11 题。



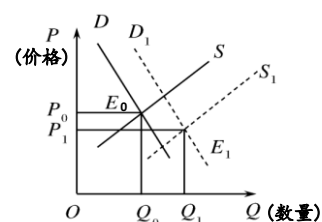
题。

10. 该国能够大规模推广步行街加热管道，主要得益于

- A. 技术水平较高
- B. 岩浆活动频繁
- C. 太阳辐射很强
- D. 油气资源丰富

11. 用该方法供暖，地面建筑材料应预留缝隙，与此原理相似的是

- A. 岩石物理风化
- B. 喀斯特地貌的形成
- C. 三角洲的发育
- D. V 形河谷的形成



12. 右图所示为某商品均衡价格的变化曲线，其中 S 与 S_1 、 D 与 D_1 、 P_0 与 P_1 分别代表变化前后的供给曲线、需求曲线及均衡价格。下列可能导致此变化发生的选项是

- ① 智能机器人销售市场扩大；我国机器人产业劳动生产率大幅提高
- ② 多地新楼盘开工导致钢材需求旺盛；国家推动钢铁行业去产能
- ③ 高端水果消费量增加；高端水果的供给增长跟不上需求增长幅度
- ④ 国家采取强有力措施扩大生猪出栏量；猪肉的需求有所增加

13. 让“网红打卡地”成为城市治理的抓手，以网红经济带动城市治理的网红经济，商家瞄准商机，调整了营业时间。重庆市着力提升城市治理，打造优良的夜间消费“软环境”，一些区域成了游客热衷的“网红打卡地”。这表明

- ① 商家的生产决定了夜间消费的质量和水平
- ② 新的消费需求对生产的调整起着导向作用
- ③ 消费环境改善能够激发消费者的消费欲望
- ④ 城市治理水平决定了消费结构的转型升级



- A. ①②
- B. ③④
- C. ②③
- D. ①④

14. 经济学意义上的“杠杆”，可以通俗理解为“四两拨千金”，就是通过借债，以较小规模的自有资金，撬动大量资金，扩大经营规模，放大投资效果。下列关于“杠杆”的观点正确的是

- A. “杠杆”能够利用闲置资金，从而增加企业的利润
- B. “杠杆”伴随着高风险，个人生活中应该避免使用

关于“杠杆”的对话

甲：好穷啊，我只有 1 块钱……

乙：我可以借给你钱，赚了我们一起分，亏了都算你的。

甲：好耶！只要行情上升，我就赚了。

- C. 保持适度合理的“杠杆”水平有利于防范控制风险
- D. 经济过热时，应通过增加“杠杆”来稳定物价水平

15. 2019 年 9 月 18 日，习近平总书记在黄河流域生态保护和高质量发展座谈会上指明方向：坚持绿水青山就是金山银山的理念，坚持生态优先、绿色发展，共同抓好大保护，着力加强生态保护治理，促进全流域高质量发展。下列做法中符合黄河流域生态保护和高质量发展要求的是

- ① 陕西省融入“一带一路”，发挥区位优势、科教发达的优势，培育新兴产业
- ② 四川省发展特色优势产业，实施创新驱动发展战略，促进产业结构优化升级
- ③ 甘肃省以甘南黄河上游为重点，不搞开发，以修复黄河生态环境为中心
- ④ 重庆市聚集航空等高端产业集群，践行新发展理念，推动经济高质量发展

- A. ①②
- B. ③④
- C. ①③
- D. ②④

16. 2019 年 6 月以来，香港社会的形势深深牵动着海内外每一位中华儿女的心。8 月 16 日晚，墨尔本州立图书馆前，部分妄图乱港分子集会于此，发表港独言论。中国留学生及在澳大利亚华人获悉后，

自发前来，将乱港分子团团包围。他们响亮地唱起了国歌，高呼“祖国万岁”，向全世界宣布“HONG KONG IS PART OF CHINA”。材料告诉我们

- ① 维护国家安全、荣誉和利益是每个公民应尽的义务
- ② 对破坏国家统一的行为，公民应该充分行使监督权
- ③ 法律面前人人平等，我们应当尊重他人的言论自由
- ④ 在国际舞台上，公民维护国家形象也应当理直气壮

A. ①②

B. ③④

C. ②③

D. ①④

17. 随着《少年的你》这部反映校园欺凌题材电影的热映，校园欺凌话题再度引人深思。校园暴力，不仅伤害未成年人身心健康，也冲击社会道德底线。治理校园欺凌离不开国家、学校、家庭的共同努力。为维护校园安全，国家应该

- ① 完善法律法规，依法治理校园欺凌行为
- ② 加强法制宣传教育，增强学生安全防范意识
- ③ 强化专政职能，打击一切校园暴力行为
- ④ 加强校园管理，落实学校主体责任

18. 2019年9月27日，习近平在全国民族团结进步表彰大会上讲话指出，中国特色社会主义进入新时代，中华民族迎来了历史上最好的发展时期。同时，面对复杂的国内外形势，我们更要团结一致、凝聚力量，确保中国发展的巨轮胜利前进。由此可见

- ① 民族团结是各民族人民的奋斗目标，是实现民族平等的物质保障
- ② 中国特色社会主义是实现民族团结的政治保证
- ③ 各族人民亲如一家，助推中华民族伟大复兴中国梦的实现
- ④ 要全面贯彻党的民族政策，坚持各民族共同奋斗、共同发展

A. ①②

B. ③④

C. ①③

D. ②④

19. 2019年6月11日至8月18日，中央宣传部组织开展了“壮丽70年·奋斗新时代——记者再走长征路”主题采访活动。先后有1300余名记者追随当年红军长征步伐，深入实地采访，累计跨越16000余公里，推出10000余篇鲜活生动、形式多样的报道，网上总阅读量突破20亿次，社会反响热烈。开展上述活动

- ① 是发展先进文化的重要内容和中心环节
- ② 体现了社会实践是文化创新的源泉和动力
- ③ 表明文艺工作者是文化创新的主体
- ④ 有利于继承革命传统，弘扬和培育中华民族精神

A. ①③

B. ②④

C. ②③

D. ①④

20. 2019年10月27日印发的《新时代公民道德建设实施纲要》指出，要充分发挥礼仪礼节的教化作用，制定国家礼仪规程，完善党和国家功勋荣誉表彰制度，规范开展升国旗、奏唱国歌、入党入团入队等仪式，强化仪式感、参与感、现代感。充分利用重要传统节日、重大节庆和纪念日，组织开展群众性主题实践活动，丰富道德体验、增进道德情感。这表明

- ① 我们要继承中华传统礼仪，发挥传统道德的作用
- ② 礼仪礼节是道德素养的体现，也是道德实践的载体之一
- ③ 国家礼仪可增强人们对党和国家、组织集体的认同感和归属感



④ 充满仪式感的文化活动对人的影响是深远持久的

A. ①②

B. ③④

C. ②③

D. ①④

21. 人们了解氧气的基础性作用已有数个世纪,但细胞如何适应氧气水平变化长期不为人知。2019 年诺贝尔生理学或医学奖的三名获奖科学家 Kaelin、Ratcliffe 和 Semenza,发现并确认了“细胞能够 调节基因活性以适应不同氧气水平的分子机制”,获奖成果为人类开发出“有望对抗贫血、癌症以及许多其他疾病的新策略铺平了道路”。这表明

① 真理具有反复性、无限性和上升性

② 实践是检验认识真理性的唯一标准

③ 追求真理的过程并不是一帆风顺的

④ 认识的目的在于指导实践改造世界

A. ①②

B. ③④

C. ①③

D. ②④

22. 华为总裁任正非在回答记者关于华为在研发投入的方向时说:“我们这三十年都对着同一个 ‘城墙口’ 冲锋,几十人、几百人对着这个 ‘城墙口’,几万人、十几万人还是攻这个 ‘城墙口’,总会把这个 ‘城墙口’ 攻开的。而且我们炮击这个 ‘城墙口’ 的 ‘弹药量’,现在是每年 200 亿美元的研发了,全世界没有一个上市公司敢像我们这样对同一个 ‘城墙口’ 投入这么多的炮击量。”这 表明华为在研发投入上

A. 坚持重点论,着重把握主要矛盾

B. 坚持重点论,着重把握矛盾的主要方面

C. 坚持两点论,兼顾次要矛盾

D. 坚持两点论,看到矛盾的次要方面

23. 2019 年 7 月 1 日起,《上海市生活垃圾管理条例》正式实施,垃圾分类迈入“硬约束”时代。作为一种新的生活方式,垃圾分类投放正在改变居民传统“一包丢”的习惯,对社会进步与发展有着深刻的影响。从唯物史观看,《条例》的实施

① 发挥社会意识的主动创造性,推动创造理想的世界

② 顺应了生态文明建设的要求,符合社会发展规律

③ 会制约人们的行为选择,成为人生的重要向导

④ 能不断地解决社会基本矛盾,推动社会的发展

A. ①②

B. ③④

C. ①③

D. ②④

24. 嬴政统一六国后,用两年时间修筑了南起陕西林光宫,北至今内蒙古包头九原郡的一条南北长达 700 多公里的军事通道。秦直道是由咸阳通往北境阴山间最捷近的道路,大体南北相直,故称“直道”。修筑该



工程在当时

A. 有利于秦帝国的统一安定

B. 有利于中央集权制度形成

C. 有利于交通运输网络通畅

D. 有利于国家组织能力建设

25. 诸葛亮的前后两次出师表,因其所表现的忠贞气节,使文章千古传颂。《后出师表》的末尾写到,“臣鞠躬尽瘁,死而后已……”成为人们常引用的一句成语。“鞠躬尽瘁,死而后已”体现的情怀是

- A. “行己有耻”的立身准则
B. “明道救世”的忧患意识
C. “经世致用”的思想品质
D. “天下兴亡”的历史担当
26. 沈括《梦溪笔谈》卷三说：“世间锻铁所谓钢铁者，用柔铁屈盘之，乃以生铁陷其间，泥封炼之，锻令相入，谓之‘团钢’，亦谓之‘灌钢’”，并说“二三炼则生铁自熟，仍是柔铁”。历史解释是指以史料为依据，以历史理解为基础，进行理性分析和客观评判。对此史料解释合理的是，当时中国
- A. 科技水平领先世界
B. 金属锻铸技术成熟
C. 新的生产关系滋生
D. 海外贸易占据主导
27. 在中国封建社会，小农善于经营，可以“累其赢余，益市田数亩”，上升为自耕农或小地主，小地主经营得法，也能上升为大地主。……不善经营，大地主也会下降为小地主，小地主破产为自耕农，乃至佃农，及身无立锥之地。这说明
- A. 封建经济发展缺乏稳定性
B. 土地兼并是封建经济的顽疾
C. 自耕农是封建经济的主体
D. 封建经济内部隐存竞争因素
28. 《南京条约》签订后一年，耆英即提出“信守”条约，至道光帝二十五年（1845年），道光皇帝明确提出“恪遵成约，彼此相安”。清政府提出的信守条约是为适应中外间新的条约关系所采取的外交方针，这反映了清政府
- A. 天朝体系开始崩溃
B. 半殖民地化的完成
C. 旧夷夏观有所改变
D. 谙熟国际外交规则
29. 蔡和森在《中国共产党史的发展》中写到：“五四运动时，整个说来，国民党是站在群众运动之外的。北京、上海的学生虽派代表找过国民党，他的领导人竟以无力参加拒绝”。这表明
- A. 国共合作被提到议事日程
B. 五四运动促成共产党的成立
C. 国民党组织涣散急需改组
D. 共产党的成立是时代的要求
30. 据资料记载，抗日根据地军民抗击的日本兵力占侵华日军总兵力的比例，1938年为58%，1942年为63%，1944年为64%。抗日根据地的存在，打乱了敌人作战的前线与后方的划分，形成了敌我双方军事态势多层复杂的包围与反包围，形成了犬牙交错的战争形态，为抗日战争的完全胜利做出了决定性的贡献。下列表述正确的是，它
- A. 是八路军正面战场的战区之一
B. 壮大了八路军的力量
C. 是抗战时期开辟的解放区
D. 是敌后战场的组成部分
31. 中国科学院建院初期的粗略统计，新中国成立时，侨居国外的科学家人数大约有5000余人，到1956年底，已经有近2000名科学家回到了祖国大陆，其中有钱学森、邓稼先、华罗庚等等。这批海外科学家
- A. 吹响了“向科学进军”的号角
B. 承担着完成民主革命的重任
C. 响应了振兴中华的时代感召
D. 成为打破中美关系僵局关键
32. 随着罗马国家日益强大和繁荣，社会奢靡之风开始蔓延。罗马法规定了对浪费财产者的处置方式：裁判官可以宣告浪费者为“禁治产”人（丧失对于自己财产的管理权限的人），宣告后，由保护人管理其财产。这表明罗马法的人法
- A. 严重损害了公民合法权益
B. 体现了公共利益优先原则
C. 注重保护奴隶主贵族利益
D. 不承认公民财产的所有权
33. 据统计，在15世纪的最后几年，威尼斯商人在亚历山大港每年平均大约进口350万英镑价值的香料，但是在1502—1505年的4年中，这一数据下降到每年100万英镑左右。这一现象反映出
- A. 欧洲市场香料交易量大幅下降
B. 欧洲贸易的中心逐渐发生转移

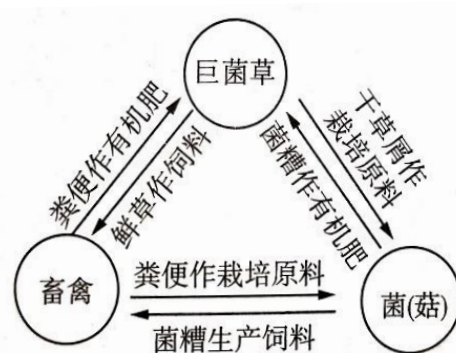
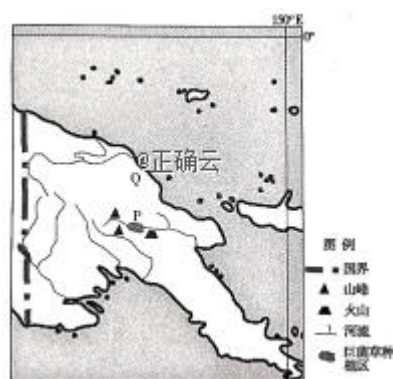
- C. 世界市场的雏形由此开始出现 D. 意大利资本主义萌芽发生中断
34. 从 1929 年 11 月 19 日起, 胡佛劝告铁路公司的董事长们, 金融工业贸易、建筑界的领袖们, 维持生产和现行投资, 同时要求劳工界领袖, 放弃增加工资要求。这表明当时美国
- A. 在原则上同意大规模干预经济 B. 对经济危机的危害有清醒认识
- C. 并未放弃自由放任的经济政策 D. 在应对危机中采取了消极措施
35. 2019 年工党领袖杰里米·科尔宾参加议会选举竞选活动时说: “工党领导的政府将让每个人免费使用宽带……这是 21 世纪的核心基础设施。我认为它非常重要, 因而不能交给企业(运营)。”具体可知英国工党打算
- A. 深受罗斯福新政的影响 B. 政权性质已经发生改变
- C. 采取国家干预经济措施 D. 出现经济“滞胀”现象

二、非选择题: 本卷包括必考题和选考题两部分。第 36~41 题为必考题, 每个试题考生都必须作答。第 42~46 题为选考题, 考生根据要求作答。

(一) 必考题: 共 135 分

36. 阅读图文材料, 完成下列要求。(24 分)

巨菌草, 原产于北非, 其植株高大, 丛生, 喜高温, 耐旱能力强, 喜肥沃、排水良好的土地。巨菌草粗蛋白和糖分含量高。巴布亚新几内亚的东高地省与福建省是友好省份, 2000 年, 福建农林大学研发的菌草生产技术正式被引入巴布亚新几内亚。巴布亚新几内亚传统的农业生产方式较为落后, P 地田园有围栏防范野生动物入侵, Q 地采用刀耕火种的模式, P、Q 两地连续耕种数年后都会弃耕。随着中国技术的传播, 菌草养菇和菌草养畜相结合, 成为东高地省脱贫致富的良好模式。下图分别是巴布亚新几内亚位置图和东高地省种养模式简图。



- (1) 比较 P、Q 两地连续种植年限影响因素的差异。(4 分)
- (2) 简述与福建省相比, P 地适宜种植巨菌草的优势自然条件。(6 分)
- (3) 说明菌草养畜模式的互利共生关系。(6 分)
- (4) 分析未来巨菌草产业中巴合作的方式及发展方向。(8 分)

37. 阅读图文材料，完成下列要求。(22分)

定西又称陇中，属黄土高原丘陵沟壑区，海拔在1930~3941米之间，地势西南高，东北低，地形地貌复杂多样。古代有“陇中苦瘠甲于天下”之说。近年来，定西市大规模种植马铃薯，同时使中药材资源闻名全国，农民走上了致富之路。为拓宽致富之路，定西市将需要较少劳动力且收益高的林草业作为战略性主导产业，提出打造“中国西部草都”的目标。右图为定西位置图。



- (1) 说明定西“苦瘠甲于天下”的自然原因。(8分)
- (2) 分析定西中药材资源丰富的原因。(6分)
- (3) 说明定西发展牧草种植的生态效益。(8分)

38. 阅读材料，完成下列要求。(14分)

区块链是一种由多方共同维护，使用密码学保证传输和访问安全，能够实现数据一致存储、难以篡改、防止抵赖的记账技术，也称为分布式账本技术。区块链能解决经济社会发展中的“存证”难题，为实现社会征信提供全新思路；能打通“数据壁垒”，实现信息和数据共享，保障生产要素有序高效流动；能实现政务协同办理，深化“最多跑一次”改革，为人民群众带来更好的政务服务体验，提供便捷高效、公平竞争、稳定透明的营商环境。2019年10月24日，习近平总书记在主持中共中央政治局第十八次集体学习时强调，要加快推动区块链技术和产业创新发展，积极推进区块链和经济社会融合发展。

结合材料，分析说明推进区块链与经济社会的融合对我国发展社会主义市场经济具有的重要意义。

39. 阅读材料，完成下列要求。(12分)

(14分)

中国梦，将照亮世界更加和谐的未来，梦想的果实正惠及全球。

“中国将做世界和平的建设者、全球发展的贡献者。”中国是这样说的，更是这样做的。第二届进博会，交易的商品和服务，交流的是文化和理念；160多个国家和国际组织同中国签署共建“一带一路”合作协议，中国同“一带一路”国家贸易总额超过6万亿美元，直接投资超过900亿元……

中国是现行国际秩序的维护者而不是破坏者，中国提出“共商、共建、共享”的方案，以海纳百川的胸怀，勇于担当的作为，向世界郑重承诺：中国推动构建人类命运共同体的脚步不会停滞，中国为世界作出更大贡献的追求不会改变。

结合材料，运用“国际社会”的相关知识，说明中国是如何推动构建人类命运共同体的。(12分)

40. 2019年8月19日，习近平总书记赴甘肃考察调研，首站来到敦煌莫高窟，深入敦煌研究院实地察看珍藏文物和学术成果展示，同专家、学者和文化单位代表座谈。他强调，要把敦煌研究院建成我国文化遗产保护传承的典范，占领国际敦煌学的制高点。阅读材料，完成下列要求。

材料一 “敦，大也，煌，盛也。”历史上的敦煌，是中原王朝经略西域的战略基地，是丝绸之路上的国际商贸中心。敦煌的“桥头堡”地位，让这里成为中西文化的荟萃之地，以石窟壁画、敦煌遗书为代表的敦煌文化也因此成为中华文明开放体系的重要组成部分。敦煌石窟以汉晋中原文化为基础，大胆吸收了中亚、西亚佛教艺术思想内容并将其传入了内地。同时，敦煌石窟又不断将中原佛教艺术在思想内容上的新成果传播到中亚等地，完成了中外文化互鉴交流的千年延续。敦煌存有始于晋止于宋初的3万余卷古写本和一些古刻本，其内容以佛教经典为最多，还有道教经典，经、史、子、集四部书等。

- (1) 结合材料一，运用文化生活知识，说明保护和传承敦煌文化的时代价值。(12分)

材料二 功成不必在我，功成必定有我。敦煌文化得以保护、传承和发展离不开几代莫高人的心血和付出。樊锦诗，1963年从北京大学毕业来到敦煌，扎根风沙之中的敦煌，五十多年如一日，默默守护着这座举世闻名的文化遗产，被誉为“敦煌女儿”。为了能将莫高窟更好地保存下来，樊锦诗为每一个洞窟、

每一幅壁画、每一尊彩塑建立数字档案，利用数字技术让莫高窟容颜永驻。她说：“只要一息尚存，就要为敦煌努力。”

(2) 结合材料二，运用“实现人生价值”的相关知识，谈谈你对“功成不必在我，功成必定有我”的理解。(10分)

材料三 莫高窟与许多文化遗产一样，既有珍贵稀有的价值，又有脆弱易损的特点，一旦被破坏，不可再生，所以保护必须是第一位的。从2014年开始，敦煌莫高窟实行旅游新模式——“单日总量控制、线上预约购票、数字洞窟展示、实体洞窟参观”，从而大幅提升了游客参观体验，有效缓解了莫高窟保护与利用之间的矛盾，为文化遗产保护管理、旅游开放探索了宝贵经验。目前，敦煌研究院在过去看守保护、抢险加固保护的基础上，经过不断努力和探索实践，基本建成了以文物安全、科技保护和科学管理为基础，以安全保卫、抢救性保护、预防性保护为手段，以专项法规、保护规划、数字保护为主要内容的综合保护体系。

(3) 结合材料三，谈谈要做到对敦煌莫高窟“保护是第一位的”应遵循的两条方法论原则。(4分)

41. 2019年12月19日，“一带一路”巴黎论坛第三届会议正式举行，中国的倡议得到了越来越多国家的积极回应。阅读材料，完成下列要求。(25分)

材料一 秦汉开始直至元朝的1500多年是丝绸之路的第一时代，特征主要是：形成了以陆路为主的交通格局，背靠海洋，面向北方，以长城为中心，农耕文明和游牧文明成为对抗、交流、融合的两大大主要势力，也是我们理解多元一体中华民族形成的关键。……1405年，朱棣派遣郑和第一次下西洋。此后郑和又六次下西洋，最远到达东非，开拓了海上丝绸之路。这是丝绸之路第二时代的开端。这个时代的特点是大陆文明与海洋文明的对话、交流和交往。由于这个时代明清的综合国力在世界范围内大体保持领先地位，中国由此成为当时世界经济和贸易的中心地区之一。

——摘编自吕文利《丝绸之路的“三个时代”》

材料二 “近代丝绸之路”，既是任人宰割的悲剧，也是否极泰来，走向振兴的前奏。从空间看，近代中外文化交流的通道是扩大了；从内容看，“西学东渐”是主线，但中国也在开放中艰难发展。我们从晚清民初大量的时人旅行记中也可以看到这种情况，驼队马帮活动频繁，都带有大量的丝绸。海上丝绸之路所达的更是商埠大开，口岸林立。先有条约开埠，后有自开商埠。

——摘编自王健《从“丝绸之路”到“一带一路”历史跨越的重要节点》

材料三 全球化带来了政治、经济和文化上的相互依存，“一带一路”合作倡议将给世界带来无限生机和美好前景。“一带一路”具备强大的经济投入，一些地区建造更多基础设施，像公路、铁路以及船运等，从而拉动经济增长。“一带一路”将成为精彩的范例，供国际社会在推进不同地区之间合作时参考。“一带一路”是全球化的“新脚步”，这将充分调动沿路国家未充分开发的成长潜力，也将极大缩短欧洲和中国陆路交通的时间，未来东西方贸易将更便捷，成本更低。

——摘编自《南方周末》，2017年5月10日

(1) 根据材料一并结合所学知识，概括丝绸之路的转化及其原因，并简要分析其影响。(14分)

(2) 根据材料一、二并结合所学知识，分析“近代丝绸之路”贸易的新特点。(7分)

(3) 根据以上材料，分析中国提出“一带一路”战略的积极意义。(4分)

42. 阅读材料，完成下列要求。(12分)

材料 2019年世界品牌500强榜单节选

名次	品牌	品牌价值(亿美元)	国家	行业
1	亚马逊	1879	美国	互联网
2	苹果	1536	美国	科技
3	谷歌	1428	美国	科技
4	微软	1196	美国	科技

5	三星	913	韩国	科技
6	AT&T	870	美国	电信
7	Facebook	832	美国	科技
12	华为	623	中国	科技
15	中国移动	557	中国	电信
20	微信	507	中国	科技
21	腾讯	497	中国	互联网
23	淘宝	467	中国	互联网
50	英特尔	291	美国	科技

请从上述品牌的相关信息中提炼出一个关于现代化的启示，并结合所学近现代史知识予以说明。

（要求：观点明确，史论结合，言之成理）

（二）选考题：共 25 分。请考生从 2 道地理题、3 道历史题中每科任选一题作答。如果多做，则每科按所做的第一题计分。

43. 【地理——选修3：旅游地理】（10分）

查干湖冬捕，即查干湖冬季捕鱼（或称渔猎），是吉林省松原市前郭尔罗斯蒙古族自治县一种传统的渔业生产方式（习俗）。早在辽金时期，查干湖冬捕就享有盛名。2008 年，查干湖冬捕被确定为国家级非物质文化遗产，查干湖旅游区也被确定为国家级非物质文化园区。每年 12 月 28 日，参加冬捕的南方游客络绎不绝。大广高速、珲乌高速以及查干湖机场的运营，增加了查干湖的可达性。

（1）简析冬捕的好处。（4 分）

（2）说明查干湖冬捕受到南方游客热捧的原因。（6 分）

44. 【地理——选修6：环境保护】（10 分）

1999 年建成的上海浦东国际机场是中国重要的国际航空港之一。浦东国际机场在规划时，场址几经变更，由陆地趋向沿海，最终专家建议再向东迁移至沿海滩涂，通过围海造陆建设机场。浦东国际机场建设的一个重要配套工程是

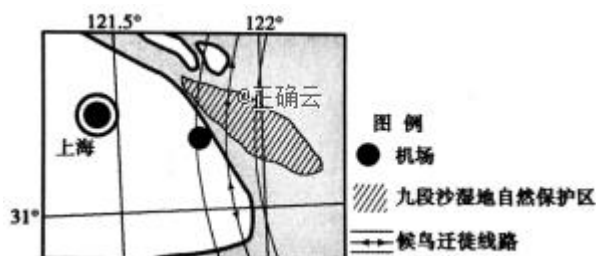
在九段沙（长江泥沙沉积形成的沙洲）

种草，促淤。右图为浦东国际机场

位置图。

分析九段沙湿地自然保护区的建设对

当地地理环境的影响。（10 分）



45. 【历史——选修1：历史上重大改革回眸】（15 分）

材料 建国初期，我国农村医疗卫生极端落后。1950 年前后，东北各省率先自发采用合作制和群众集资的办法兴办基层卫生组织。1951 年，卫生部要求基层人民政府加强基层卫生工作，大力训练“接生员”等初级卫生人员，号召个体医生组建“联合诊所”。1955 年，山西、河南、贵州等地农村出现了一批由合作社自发组织的保健站和医疗站。它们基本是在乡政府领导下，以自愿为原则，每个农民缴纳几角钱保健

费，便可享受免费预防保健及免收挂号费、出诊费、注射费的服务。到1956年底，这些省的集体保健医疗站发展到1万个，医务人员约10万人。1960年，中共中央充分肯定了合作医疗这一办医形式。随后，卫生部组织大批卫生技术人员下乡，培养农村卫生技术人员，广泛建立合作医疗学习范本。60年代初，农村合作医疗的覆盖率达到20%~30%，到70年代末，全国普及率达到90%以上。

——摘编自姚力《中国共产党对医疗保障制度的探索与经验》

- (1) 根据材料，概括我国农村合作医疗推行的特点。(8分)
- (2) 根据材料并结合所学知识，分析农村合作医疗制度的意义。(7分)

46.【历史——选修3：二十世纪的战争与和平】(15分)

材料 第二次世界大战是对殖民主义的致命打击。战争期间，反法西斯同盟通过一系列声明，宣言等，支持殖民地半殖民地的独立要求。1945年6月通过的《联合国宪章》强调“促成国际合作，以解决国际间属于经济、社会、文化及人类福利性质之国际问题，且不分种族、性别、语言或宗教，增进并激励对于全体人类之人权及基本自由之尊重。”二战后，英帝国很快解体，法国也不得不承认印度支那、阿尔及利亚等法属殖民地独立。1955年亚非万隆会议隆重举行，通过《关于促进世界和平和合作的宣言》，引申和发展了和平共处五项原则，提出了各国和平相处友好合作的十项原则，60年代非洲的民族独立运动风起云涌，仅1960年就有17个非洲国家独立，这一年被称为“非洲年”。1945—1991年，全世界有90多个国家摆脱了殖民统治获得独立，以惊人的速度摧毁了世界殖民体系。

——摘编自吴于廑、齐世荣主编《世界史（现代史编下）》

- (1) 根据材料，概括战后世界殖民体系崩溃的原因。(9分)
- (2) 根据材料并结合所学知识，简析世界殖民体系崩溃的历史意义。(6分)

47.【历史——选修4：中外历史人物评说】(15分)

材料 陈望道(1891—1977年)在青年时代就立下报国之志，17岁在家乡兴办学校，希望通过“教育救国”的方式拯救社会。后来，陈望道认为，要想国家富强，就应该兴办实业，要兴办实业就要出国留学，于1915年留学日本。在日本，陈望道逐渐打消了“实业救国”“教育救国”的幻想，奠定了救国必须进行社会革命的思想，为表明自己对社会主义的向往，他改名为“望道”。1919年5月，陈望道从日本回国，开始积极传播马克思主义，翻译了大量马克思主义著作。他首译了《共产党宣言》，并在1920年参与筹建了上海共产主义小组。毛泽东在接受斯诺采访时说：“有三本书特别深地铭刻在我的心中，建立起我对马克思主义的信仰，其中一本就是陈望道翻译的《共产党宣言》”。——摘编自郭群英《陈望道对马克思主义的领悟、传播和践行》

- (1) 根据材料并结合所学知识，概括指出陈望道救国主张发展变化的原因。(8分)
- (2) 根据材料并结合所学知识，简要评价陈望道的历史功绩。(7分)